


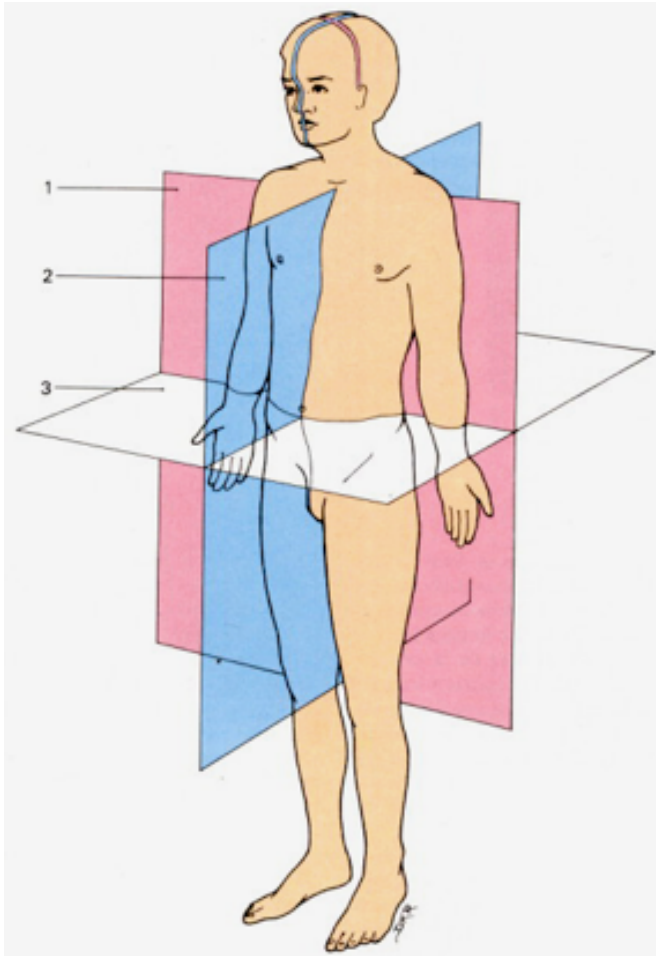


DPTO. SANIDAD		C.F.G.S. LABORATORIO DIAG. CLÍNICO		MÓDULO: FG GRUPO: 1º LCB
ALUMNO/A:				FECHA:
			Actividad: UD 1. Estructura y organización general del cuerpo humano <b>IDENTIFICACIÓN EN ESQUEMAS Y CUESTIONES</b> <b>CRITERIOS DE CORRECCIÓN:</b> 1. Se realiza individualmente consultando material de clase. 2. Se Valora el haberla realizado y entregado en día ó plazo establecido.	

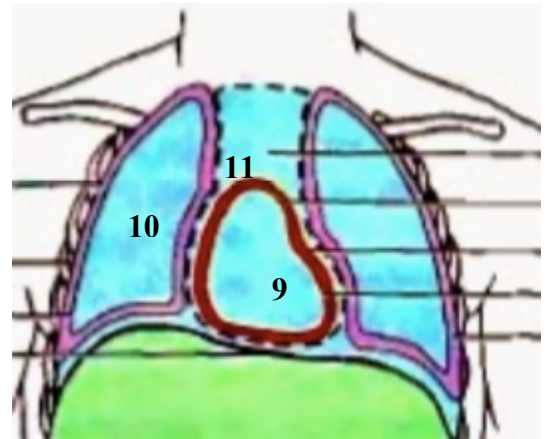
1) Identificar en el esquema los planos corporales



1:

2:

3:



2) Identificar en los esquemas las Cavidades

1:

2:

3:

4:

5:

6:

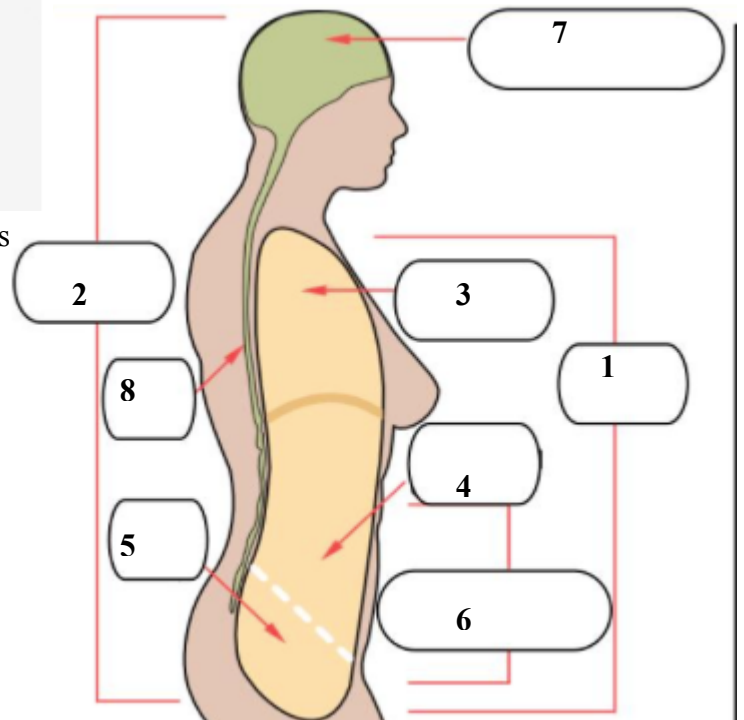
7:

8:

9:

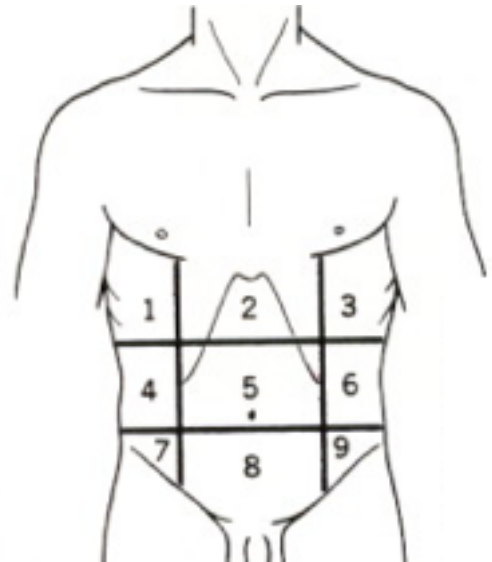
10:

11:



3) Identificar en el esquema las regiones del abdomen

- 1:
- 2:
- 3:
- 4:
- 5:
- 6:
- 7:
- 8:
- 9:



4) Di a que Nivel de organización del cuerpo humano corresponden los siguientes elementos

- |               |               |
|---------------|---------------|
| a) Pulmón:    | e) Endocrino: |
| b) Carbono:   | f) Glucosa:   |
| c) Digestivo: | g) Conectivo: |
| d) Epitelial  | h) Riñón      |

5) Di para los siguientes casos si lo denominamos Sistema ó Aparato:

- |                 |                 |
|-----------------|-----------------|
| a) Tegumentario | e) Linfático    |
| b) Urinario     | f) Locomotor    |
| c) Óseo         | g) Nervioso     |
| d) Muscular     | h) Respiratorio |

6) Determina la posición correcta de las siguientes estructuras corporales

- a) El codo respecto al hombro es \_\_\_\_\_
- b) El corazón respecto a los pulmones es \_\_\_\_\_
- c) La rodilla respecto al pie es \_\_\_\_\_
- d) El esternón con respecto al corazón es \_\_\_\_\_ ó \_\_\_\_\_
- e) La tráquea es \_\_\_\_\_ ó \_\_\_\_\_ respecto al la laringe
- f) Los riñones respecto a la columna son \_\_\_\_\_
- g) La faringe es \_\_\_\_\_ ó \_\_\_\_\_ respecto al esófago
- h) Según el lado del cuerpo en que se encuentran, El Hígado y el Bazo son \_\_\_\_\_

7) Localiza un área de las regiones abdominales donde se encuentren las siguientes estructuras:

- a) Vejiga urinaria:
- b) Ciego y Apéndice:
- c) Colon ascendente
- d) Lóbulo derecho del hígado

8) Hacer corresponder las regiones corporales siguientes con su localización

- |                           |                                      |
|---------------------------|--------------------------------------|
| a) Patelar                | 1 Cara posterior de la pierna        |
| b) Antecubital            | 2 Cara anterior del codo             |
| c) Esternal ó preesternal | 3 Cara anterior de la rodilla        |
| d) Poplítea               | 4 Pie                                |
| e) Plantar                | 5 Cara anterior del tórax ó pectoral |
| f) Sural                  | 6 Cara posterior de rodilla          |